

1. DÖNEM

8
SINIF

SES DENEME

2

YENİ NESİL SORULAR



LGS

ADI SOYADI :.....
SINIFI/ŞUBESİ :.....
ÖĞRENCİ NO :.....

DERS ADI	SORU SAYISI	TOPLAM SORU SAYISI	SINAV SÜRESİ (DAKİKA)
TÜRKÇE	20	50	75
T.C. İNKILAP TARİHİ VE ATATÜRKÇÜLÜK	10		
DİN KÜLTÜRÜ VE AHLAK BİLGİSİ	10		
YABANCI DİL (İNGİLİZCE)	10		

SÖZEL



SES YAYINLARI



TÜRKÇE TESTİ

◆ Bu testte 20 soru vardır. ◆ Cevaplarınızı, cevap kâğıdına işaretleyiniz.

1. ◆ Bakışı bir şey üzerine çevirmek
◆ Beslemek, geçindirmek
◆ Bir işi yapmak, bir işi yapmakla görevli olmak
◆ Aramak

“Bakmak” fiili aşağıdaki cümlelerin hangisinde yukarıdaki anlamlarının dışında bir anlamda kullanılmıştır?

- A) Akşamları yatmadan önce okumak için yeni bir kitap bakıyorum.
B) Babam vefat eden dayımın çocuklarına da bakıyor.
C) Evin tüm odalarının temizlik işlerine ben bakıyorum.
D) İş yerinin hesaplarına bakmak için defteri istedi.



2. Dil sayesinde bir milletin yüzyıllar boyunca edindiği bilgi nesilden nesle aktarılır. Konuşma dili, tabirleri ata hazinesidir. Bundan dolayı okuma yazma bilmeyen Türk halkının bir sağduyuya, bir hayat görüşüne sahip olması konuşma dilinin zenginliğinden ileri gelir. Fakat yazı dili ve onun mahsulü olan kitap öyle midir? Sözlü kültürden çok daha zengin ve emin bir kaynaktır. Kitap okuyanın bilgisi kadar konuşması da başka türlü olur. Bir memlekette kitap kültürü ne kadar zenginse günlük konuşma da o kadar zengin olur. Derin kültür; konuşma ile değil kitaplarla elde edilir, yüzlerce kitapla... Kültürlü bir insanın dili ve kelime kadrosu, içeriği itibarıyla okuduğu kitaplara göre değişir.

(Mehmet KAPLAN)

Yazar yukarıdaki metnin anlatımında hangisine başvurmuştur?

- A) Okuyucunun düşüncesini kendi düşüncesi yönünde değiştirmeye.
B) Herhangi bir konu hakkında okuyucuyu bilgilendirmeye.
C) Zaman, mekan, kişi unsurlarından yararlanarak okuyucuyu olay içinde yaşatmaya.
D) Sözcüklerle resim çizerek anlatımı etkileyici kılmaya.

3. Cümlelerdeki farklı düşünce ve duyguları birbirine bağlamak, bir konuyu özetlemek, sonuca bağlamak ya da açıklamak için kullanılan ifadelere **geçiş ve bağlantı ifadeleri** denir.

Aşağıdaki cümlelerden hangisinde geçiş ve bağlantı ifadelerinden birine yer verilmemiştir?

- A) Saatlerdir bu konuyla uğraşıyorum ancak sorunu çözemедim.
B) Evin her tarafını dikkatle temizledim üstelik yemek de yaptım.
C) Kurabiye yapmak istedim, evde malzeme bulamadım.
D) Tüm müdahaleleri yaptık ne yazık ki hastayı kurtaramadık.



4.

1. Açığa vurmak	Gizli, saklı bir şeyi herkese duyurmak, ortaya çıkarmak.
2. Dallanıp budaklanmak	Yeşerip büyük bir ağaç halini almak.
3. Göz hapsine almak	Gözetlemek, bir şeyin üzerinden bakışlarını ayırmamak, birinin hiçbir davranışını gözden kaçırmamak.
4. Ucunda bir şey olmak	Bir şeyde gizli bir amaç bulunmak.

Yukarıda numaralanmış deyimlerden hangisinin anlamı yanlış verilmiştir?

- A) 4 B) 3 C) 2 D) 1



5. “Yazarak kurtarabiliriz geçmişini geleceğinin yağmasından, zamanın hoyratlığından. Hoyrattır bu akşamüstüleri daima, diyerek başlayabiliriz örneğinin... Ardından, unutmak selinin önünden kaçırdığı bir öğle sonrasında anlatıyor: “1981 yazında, Ülker’le, Ediple, Turgut’la ve Turgut’un kedileriyle yaşanmış bir öğle sonumuz var. Bugünse ne Ülker ne Edip ne Turgut ne de Turgut’un kedileri... Yalnızca ben kaldım o öğle sonundan bugüne. Bir gün ben de gidince o güzel öğle sonundan akşama kadarki zaman yaşanmamış gibi olacak. Gerçek dışı sanki: Oysa yaşandı. Yaşandıysa anlatılmalı.

O günü anlatmakla başlıyorum. Arkası da gelecek. Şimdi uzaklarda olanları, bir daha kavuşmamız hayal olan sevdiklerimi, sevdiklerimizi yazıya terk edeceğim. Zamanın hoyrat ellerine bırakmayacağım onları.”

Bu paragraftan hareketle “Yaşandıysa anlatılmalı” diyen bir yazar hangi metin türünde yazacaktır?

- A) Anı B) Günlük C) Hikâye D) Roman

6.



KIRMIZI BAŞLIKLİ KIZ

Kırmızı başlıklı kız hasta olan büyükannesine annesinin yaptığı çörekleri götürebilmek için kırmızı pelelinini giymiş ve şapkasını takarak yola çıkmış. Ormanın sonunda olan büyükannesinin evine giderken birden karşısına kurt çıkmış ve kırmızı başlıklı kız kurt ile konuşmaya başlamış. Kurt arkalarından gelen ormancıyı görerek kırmızı başlıklı kıza iyi davranarak ve büyükannesinin evini öğrenerek yanından ayrılmış. Kurt orman içerisinden büyükannesinin evine kırmızı başlıklı kızdan daha önce gitmiş. Kapıdan büyükanneye kırmızı başlıklı kız olduğunu söylemiş. Büyükannesinin kapı açık içeri gir demesi ile birlikte içeri girerek bir lokmada büyükanneyi yutuvermiş. Ardından büyükanneyi giyerek yatmış ve kırmızı başlıklı kıza beklemeye başlamış. Kırmızı başlıklı kız bir süre sonrasında büyükanneye gelmiş ve açık kapıdan girmiş. Büyükannesine “Ben geldim büyükanne.” dedikten sonra kurdun cevabı üzerine kurda “Senin sesin neden bu kadar kalın?” demiş. Büyükanne kılığında olan kurt ise “Hastayım ya ondan.” demiş. Bu sefer büyükanneye ellerini fark eden kırmızı başlıklı kız “Büyükanne senin ellerin neden bu kadar büyük?” demiş. Bunun üzerine kurt “Seni daha fazla kucaklayabilmek için.” cevabını vermiş. Kırmızı başlıklı kız bu sefer büyükanneye kulaklarını fark etmiş ve “Büyükanne senin kulakların neden bu kadar büyük?” diye sormuş. Kurt “Seni daha iyi duyabilmek için.” cevabını verdikten sonra dayanamayarak önce kırmızı başlıklı kızın elindeki çörekleri ardından kırmızı başlıklı kıza bir lokmada yutuvermiş. Yediklerinden sonra hemen uykuya dalan kurt bütün gece horuldayarak uyumuş. Ormanda gezinen avcı büyükanneye evinden gelen horultuları duymuş ve şüphelenerek içeri girmiş kurdu görmüş. Hemen elindeki baltayı kurdun kafasına vurduktan sonra kurdun içinden büyükanneyi ve kırmızı başlıklı kıza çıkarmış. Büyükanne ve kırmızı başlıklı kız sapasağlamış ve birbirlerine bir daha kurda güvenmeyecekleri konusunda söz vermişlerdir.

Metinde verilenlere göre masalın konusu nedir?

- A) Kırmızı başlıklı kızın büyükanneye çörek götürmek istemesi.
- B) Ormanda gezinen bir kurdun kırmızı başlıklı kıza tuzağa düşürmesi.
- C) Büyükanneye çörek götürmeye gidip kurdun tuzağına düşen kızın ve büyükannesinin avcı tarafından kurtarılması.
- D) Kırmızı başlıklı kızın kurda inanıp kurdun tuzağına düşmesi.

7.

Deneme sınavı sonuçlarını görmeden başarın hakkında yorum yapamıyorum.



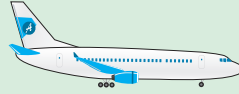
Ahmet yukarıdaki cümlede bulunan fiilimsi örneğinin özdeşi olan cümlenin yazılı olduğu ulaşım aracına binecektir.



Yeni elbiselerini denerken geç kaldı.



Mahalleden ayrılışımız herkesi çok üzmüştü.



Marketten alınacakları bir liste yaptım.



Birazdan geleceğim, kapıyı açmayı unutma.

Ahmet aşağıdaki taşıtlardan hangisine binmelidir?

A) Taksi

B) Otobüs

C) Uçak

D) Vapur



8.

İşlemcilik insanlık tarihi kadar geçmişi olan ve dikiş dikmekle başlamış olan çok eski bir el sanatıdır. İlk örneklerine Orta Asya Türklerinde rastlanır. Bu işleme sanatı göçlerle, elçilerle batıya ve diğer ülkelere de yayılmıştır. Geleneksel kültür içinde süregelen süs ve süsleme, güzel ve güzellik olgusu da insanların tüm yaşamları boyunca terk edemedikleri yaşam biçimi olmuştur. Anadolu'da "Kız beşikte, çeyiz eşikte." atasözü Türklerin "İşleme sanatı"na verdiği önemi göstermektedir. Geleneksel kültürümüzde ayrı bir yeri olan ve güncelliğini hala sürdüren "Kanaviçe" işleme çeşitlerinin en çok tercih edileni olma özelliğinin yanı sıra işlenmesi kolay, kullanımlı ve dayanıklılığı açısından her zaman gündemde kalmayı başarmıştır. Kanaviçe işi XV. ve XVI. yüzyıllarda bütün Avrupa'ya yayılmıştır. Özellikle İngiltere, Fransa ve İtalya kadınları arasında...

Bu parçanın anlatımında aşağıdaki düşünceyi geliştirme yollarından hangisinden yararlanılmıştır?

A) Tanımlama

B) Tanık Gösterme

C) Örneklendirme

D) Karşılaştırma

9.



Sıla, Azra, Semanur, Asiye, Ceren ve Nuray yılın yorgunluğunu atabilmek için tatile gitmişlerdir. Ülkemizin en fazla tercih edilen tatil yerlerinden Didim'e bir kişi, Bodrum'a iki kişi, Marmaris'e üç kişi gitmişlerdir. Gittikleri yerler ile ilgili bilgiler aşağıdaki gibidir:

- Sıla ve Semanur aynı yerde tatil yaptılar.
- Asiye ve Nuray farklı yerleri tercih ettiler.

Azra'nın tatil yaptığı yeri başka arkadaşları tercih etmediğine göre aşağıdakilerden hangisinin gittiği yer kesin olarak belli değildir?

A) Sıla

B) Asiye

C) Semanur

D) Ceren

10.

Kayseri'nin simgesi olarak da kabul edilen Erciyes dağı, İç Anadolu Bölgesi'nin en büyük dağıdır ve Kayseri gezilecek yerler listesinde ilk sıralarda yerini almaktadır. Erciyes dağı, Kayseri il merkezine 25 kilometre uzaklıktadır. Karlı manzaraları ve ihtişamlı duruşu ile dikkat çeken Erciyes dağı'nın rakımı ise 3917 metredir.

1

Kayseri il merkezinde bulunan Cumhuriyet meydanı, Kayseri tarihinin başlangıç noktası olarak görülmektedir. 5000 yıllık bir tarihe ev sahipliği yapan meydana Roma, Bizans, Osmanlı ve Cumhuriyet dönemlerine ait izler görülmektedir. Tarihi dokusu ile gezilecek yerler listesine dahil edilmiş bir yer olarak ön plana çıkmaktadır.

2

Kayseri gezilecek yerler listesinde yer alan en gözde yapılardan bir diğeri ise Kayseri Kalesi'dir. Kayseri Kalesi'nin yapım tarihi kesin olarak bilinmemekle beraber, M.Ö.3. yüzyılda yaptırıldığı tahmin edilmektedir. Birçok imparatorluk tarafından aktif olarak kullanılmış bir kaledir.

3

Kayseri Ali Dağı, Kayseri şehir merkezine 15 kilometre uzaklıktadır. Dağın zirvesine çıkış oldukça kolaydır. Ali Dağı'nın popüler olmasının bir diğer sebebi de yamaç paraşütü yapılabiliyor olmasıdır. Ali Dağı yamaç paraşütü severlerin 130 kilometre uçabilmelerine olanak tanımaktadır. İki farklı kalkış pisti bulunmakla birlikte bir tanesi güney yönünde yer alırken diğeri kuzey yönünde bulunmaktadır.

4

Numaralanmış paragrafların hangilerinde yapılan yazım yanlışının nedeni aynıdır?

A) 1 ve 2

B) 2 ve 3

C) 2 ve 4

D) 3 ve 4

11.

DELTA VARYANTI

Covid-19 hastalığına sebep olan yeni koronavirüs gibi genetiğinde RNA olan virüsler, kişinin hücrelerine girerek kendi genetik materyalini aktarır. Yeni koronavirüse (SARS-CoV-2) maruz kalan hücreler ise virüsü kopyalar ve hücre yok olana kadar virüs çoğalmaya devam eder. 2019 yılında Çin’de ortaya çıkan SARS-CoV-2 virüsü sıklıkla mutasyona uğramaktadır. Bazı mutasyonlar önemli değişikliklere neden olmazken bazıları ise diğerlerine göre çok daha büyük değişimlere ve risklere sebep olabilir. Covid-19 hastalığına yol açan SARS-CoV-2’nin mutasyona uğraması sonucunda meydana gelen Delta varyantının, diğer varyantlardan daha yüksek bulaştırıcılık ve öldürücülük oranına sahip olduğu gözlemlenmiştir. Yüksek öldürücülüğünün nedeni Delta varyantının protein yapısında görülen değişikliklerin, hücrelere girmesini ve tutunmasını kolaylaştırdığı düşünülmektedir

OMICRON VARYANTI

Günümüze kadar elde edilen bilgiler ışığında Omicron varyantının diğer varyantlara kıyasla daha fazla bulaşıcı olduğu söylenebilir. Bununla birlikte, varyantın ilk ortaya çıktığı Güney Afrika bölgesinde hastaneye yatış oranlarında büyük bir artış görüldü de genel olarak hastalık şiddeti açısından daha hafif bir varyant olduğu düşünülmektedir. Fakat Omicron varyantının diğer varyantlara kıyasla daha hafif seyirde olması, her şeyin iyiye gittiği ve artık rahat davranılabileceği anlamına gelmez. Zira günümüzde birçok kişi Omicron varyantı ile enfekte olup hastaneye kaldırılmaktadır. Bu sebeple maske, mesafe ve hijyen gibi önlemlere riayet edilmeli ve mutlaka aşı olunmalıdır. Böylelikle virüsün ortaya çıkardığı olumsuz tıbbi ve sosyal etkiler mümkün olan en kısa sürede ortadan kaybolacaktır.

Yukarıdaki iki metin karşılaştırıldığında hangisine ulaşılır?

- A) Delta varyantının diğer varyantlara göre daha fazla öldürücü olduğunu söylemek kuruntudur.
- B) Omicron varyantı diğer varyantlara göre daha ağır geçen bir varyanttır.
- C) Omicron varyantının diğerleri kadar önemsenmesi gereksizdir.
- D) Delta varyantının daha öldürücü olmasının sebebi verilmiştir.



12.

Günlük hayatımızda sıkça kullanmaya başladığımız teknolojilerden biri de giyilebilir teknoloji. Özellikle günümüzde akıllı bileklik ve saatlerin yaygınlaşması bu teknolojinin sadece küçük bir parçası. Bu cihazlar sayesinde sağlık ve spor takibi yapabiliyoruz, telefonlarımızın yapabildiği basit işlemleri telefonumuz yanımızda olmadan yapabiliyoruz. Daha da geliştirilmesi için üzerinde çalışmalar yapılan bu endüstrinin başta sağlık sektörü olmak üzere birçok alana yenilikler ve kolaylıklar getireceği öngörülüyor. Şimdilik basit olarak gördüğümüz nabız ölçme, adım sayma gibi işlemleri yapabilen bu cihazların yakın zamanda kan şekeri, tansiyon, vitamin değerleri vs gibi detayları da ölçebileceği bir sisteme dönüşmesi amaçlanıyor.

Aşağıdakilerden hangisi yukarıdaki metinden çıkarılamaz?

- A) Giyilebilir teknolojik ürünler günümüzde sıkça kullanılmaya başlanmıştır.
- B) Giyilebilir teknolojik ürünlerin ilk çıkış amacı sağlık sektörüne yardımcı olmaktır.
- C) Günümüzde telefonlar olmadan da giyilebilir teknolojik ürünleri kullanmak mümkün olmuştur.
- D) Giyilebilir teknolojik ürünler bize birçok alanda kolaylık sağlamıştır.

13. I. Seni düşündükçe gül dikiyorum ellerimin değdiği yere.
- II. Herkes beraberinde taşıdığı bir parmaklığın ardında yaşıyor.
- III. Susmanın bir ifade biçimi olduğunu savunmuyorum.
- IV. Dünyanın en uzun hüznü yağıyor yorgun ve yenilmiş insanlığımızın üstüne.
- V. Birisi için lamba yaktığınızda kendi yolunuz da aydınlanır.
- VI. Bir güvercin uçurup kıtalar arasından çağır-dın beni.

Bu cümleler için aşağıdakilerden hangisi doğrudur?

- A) I. ve VI. cümlede sözde özne vardır.
- B) II. ve IV. cümle öge sıralanışı bakımından aynıdır.
- C) III. cümle temel öğelerden oluşmuştur.
- D) V. cümle zarf tümleci, özne ve yüklemden oluşmuştur.



14.

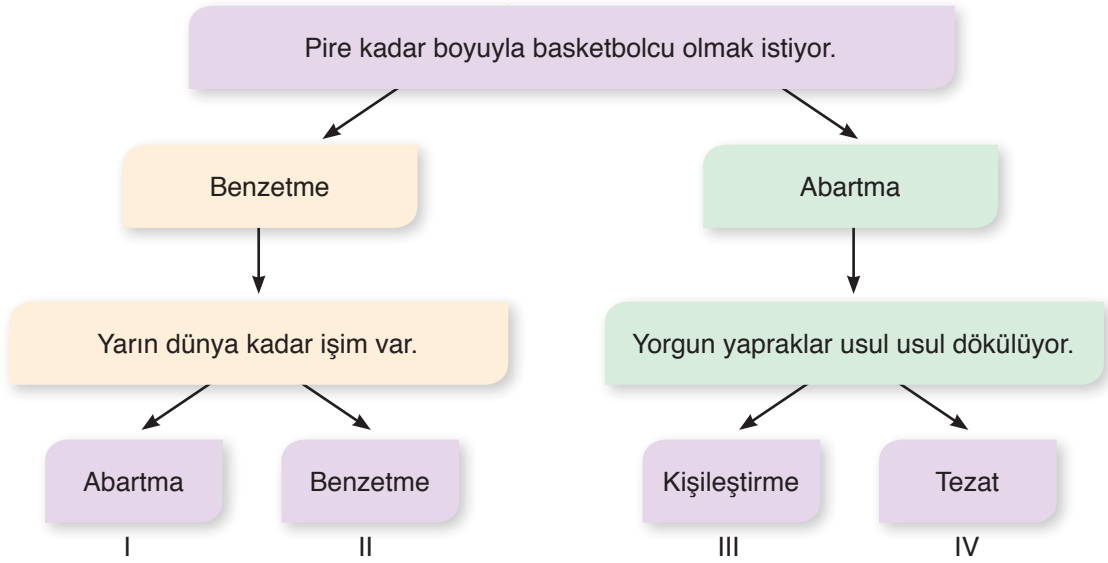


Uzun zaman önce oğlu babasını dar durumdan kurtarıp mutlu edebilmek için yatırım fırsatı aramaktadır. Bir süre sonra inek fiyatlarının iki bin liraya kadar düştüğünü fark eden genç babasına gidip durumu anlatır. Babasına normal ederi 3500 lira olan inekleri iki bin liradan alırlarsa yakın zamanda değerleri arttığında yüksek kâr getireceğini anlatır. Babası maddi sıkıntı yaşadığı dönemde böyle bir yatırıma cesaret edemez çünkü başarısız olunması halinde ailesine bakamayacak duruma gelmekten korkar. İki binin pahalı olduğunu ve inekleri alamayacaklarını söyler. Aradan biraz zaman geçer. İhtiyar adam maddi durumunu düzeltir. Oğul ve babası sohbet ederlerken oğlu babasına inek fiyatlarının arttığını ve 3000 lira olduğunu söyler. Babasından beklemediği bir tepki alır. Hemen yatırım yapalım der babası oğluna. Oğul şaşkınlığını gizleyemez. İki bin lira pahalı demiştin, üç bin ucuz diyorsun. Babası cevap verir: “O zaman iki bin pahalıydı şimdi üç bin ucuz.”

Metinden çıkarılacak en genel yargı aşağıdakilerden hangisidir?

- A) Gençlerin ticari zekaları büyükler tarafından önemsenmelidir.
- B) Pahalı ve ucuz kavramını belirleyen içinde bulunduğumuz maddi durumdur.
- C) Büyükler her zaman haklıdır.
- D) Çocuklarının fikirlerine değer vermeyen aileler her zaman zarar ederler.

15.

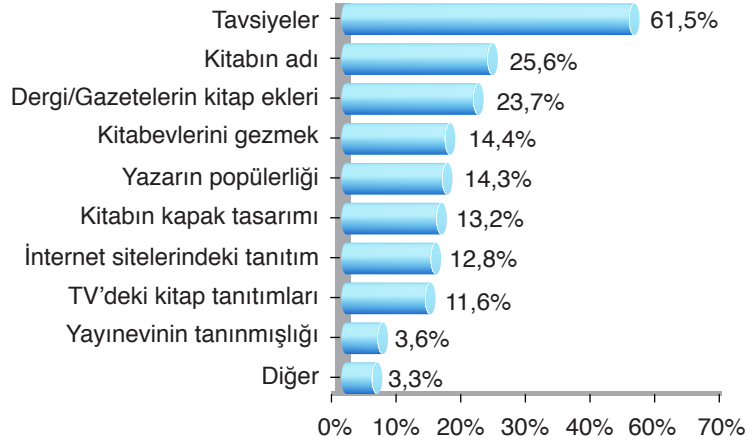


Yukarıda verilen cümlelerde bulunan söz sanatları takip edildiğinde kaç numaralı çıkışa ulaşılır?

- A) I B) II C) III D) IV



16.



Yukarıdaki grafikte kitap satışlarını etkileyen bazı kriterlerin yüzdeleri verilmiştir.

Bu grafikten hareketle aşağıdakilerden hangisi söylenemez?

- A) İnsanların birbirine kitap tavsiye etmeleri kitap satışını belirgin bir farkla artırmıştır.
- B) Tanıtımı yapılmayan kitapların satışı yok denecek kadar az olmuştur.
- C) Kitabın kapak tasarımı okuyucuyu internet sitelerindeki tanıtımlardan daha çok etkilemiştir.
- D) Kitabın adı, bazı okuyucular için yazarının tanınmışlığından daha önemli olmuştur.

17.

Ren Nehri'nin bir yakasında Almanlar, öbür yakasında da Fransızlar oturuyordu. Fransızlar, her sene nehrin karşı kıyısına geçiyor, Almanlara ait topraklardaki mahsulün tümünü toplayıp götürüyorlardı. O sıralarda, birliğini henüz temin edememiş olan güçsüz Almanlar ise buna fazlaca ses çıkaramıyorlardı. Ancak bu durum her yıl tekrarlanmayı sürdürünce, Almanlar çareyi Osmanlı sultanına durumu yazıp, imdat istemekte bulurlar ve sultana bir mektup gönderirler. Mektupta şöyle denilmektedir: "Fransızlar her sene bize zulmediyor, mahsulümüzü elimizden alıyorlar. Siz ki dünyaya adâlet dağıtan bir imparatorluğun sultanı, İslâmiyet'in de halifesisiniz. Bizi bu zulümden kurtarın. Asker gönderin. Ürünlerimizi bu sene olsun toplama imkânı sağlayın. "Osmanlı'nın gerileme yıllarına girdiği bir zamana denk gelen bu yardım isteğini inceleyen padişah asker göndermeyi mümkün ve gerekli görmez, yalnızca asker elbisesi göndermeyi kâfi bulur. Yardım isteğini bildiren mektuba cevabî bir mektup yazılır. Bu mektupla birlikte içi asker elbisesi dolu üç çuval da Almanlara yollanır. Şaşkına dönen Almanlar, çuvaları alıp mektubu okurlar. Mektupta şunlar yazmaktadır: "Fransızlar bizden çekinirler. Onlara yeniçeri göndermemize gerek yoktur. Yeniçerimizin kıyafetini görmeleri kâfidir. Çuval içindeki Osmanlı askerinin elbiselerini adamlarınıza giydirin. Bu adamları mahsul zamanı, nehrin görülecek yerlerinde dolaştırın. Karşıdan gören Fransızlar için bu kâfidir." Bağ bahçe sâhipleri hemen Osmanlı askerinin kıyafetlerini kapışırlar. Hasat vakti geldiğinde ertesi gün, nehrin karşı yakasından gelen haber, Almanların sevinç çığlıkları atmalarına sebep olur: "Almanlara Osmanlılardan imdat geldiğini zanneden Fransızlar, korkudan köylerini de terk ederek iç kısımlara doğru kaçmaktadırlar. Mahsulünüzü rahatça toplayabilirsiniz. Zulüm sona ermiştir. Bu olay Mülhaymlıların gönüllerinde taht kurar. Giydikleri yeniçeri kıyafetlerini daha sonra Mülhaym'a bağlı Karlsruhe Müzesi'ne koyup ziyarete açarlar. Şehrin en yüksek binasına da Osmanlı bayrağı asarlar. Ayrıca hâlen olayın yıl dönümünde şehirde bir karnaval düzenlep hadiseyi temsilen kutlarlar. Bu olay, Osmanlı'nın sâdece birkaç yeniçeri kıyafetiyle Almanları Fransızların elinden ve talanından nasıl kurtardığını anlatan, mâziden kalma, pırlantalarla resmedilmiş bir tablo gibidir. (Alıntıdır)

Metinden yola çıkılarak aşağıdakilerden hangisine ulaşamaz?

- A) Fransızların Almanlarla kendi imkânlarıyla mücadelesi mümkün olmayınca Osmanlı'dan yardım istenmiştir.
- B) Gerileme dönemindeyken bile askerimizin diğer toplumlar üzerinde büyük etkisi olmuştur.
- C) Yıllar önce yapılan iyiliğin değeri günümüzde bile hatırlanmaktadır.
- D) Osmanlı dünyada adaletle tanınan bir devlet olmuştur.

18. Güneş'in çevresinde dolanan, kendi ışıkları bulunmayan, Güneş'ten aldıkları ışığı yansıtan gök cisimlerinin ortak adına gezegen denir. Güneş sistemi içerisinde yer alan toplam 8 adet gezegen vardır. Bu gezegenlerin her biri birbirinden farklı özelliklere sahiptir.

MERKÜR	VENÜS	DÜNYA	MARS
<ul style="list-style-type: none"> - Güneş'e en yakın ve en küçük gezegendir. - Uydusu ve halkası yoktur. - Kütlesi Dünya'nın kütle-sinin yirmide biri kadardır. 	<ul style="list-style-type: none"> - Güneş'e en yakın ikinci gezegendir. - Uydusu ve halkası yoktur. - Dünya'nın ikizi olarak adlandırılır. - Çoban Yıldızı, Akşam Yıldızı ve Tan Yıldızı olarak da bilinir. - Karbondioksit (CO₂) ten oluşan kalın bir atmosferi vardır. Bu nedenle yüzey sıcaklığı yüksektir. 	<ul style="list-style-type: none"> - Güneş'e yakınlık bakımından üçüncü sıradadır. - Ay adında bir uydusu vardır. - Güneş sisteminde yaşam olduğu bilinen tek gezegendir. - Atmosferi ve sıcaklığı canlıların yaşaması için uygundur. - Yüzeyinin 4'te 3'ü sularla kaplıdır. 	<ul style="list-style-type: none"> - Güneş'e yakınlık bakımından dördüncü sıradadır. - İki adet uydusu vardır. - Yüzeyindeki demir oksitten dolayı Kızıl Gezegen olarak da bilinir. - En çok uzay aracı gönderilen gezegendir.
JÜPİTER	SATÜRN	URANÜS	NEPTÜN
<ul style="list-style-type: none"> - Güneş'e yakınlık bakımından beşinci sıradadır. - Güneş sistemindeki en büyük gezegendir. - Görünmeyen bir halkası vardır. - Güneş sistemindeki en büyük uyduya sahiptir. (Ganyemedeki Mars'tan büyüktür). - Zehirli gazlardan oluşan bir atmosferi vardır. 	<ul style="list-style-type: none"> - Güneş'e yakınlık bakımından altıncı sıradadır. - 82 adet uydusu vardır. - Zehirli gazlardan oluşan bir atmosferi vardır. - Halkaları vardır. - En büyük ikinci gezegendir. 	<ul style="list-style-type: none"> - Güneş'e yakınlık bakımından yedinci sıradadır. - 27 adet uydusu vardır. - Amonyaktan oluşan bir atmosferi vardır. - En büyük üçüncü gezegendir. - Güneş etrafında 90°'ye yakın eksen eğikliği nedeniyle varil gibi döner. 	<ul style="list-style-type: none"> - Güneş'e yakınlık bakımından sekizinci ve son sıradadır. - Güneş'e en uzak gezegendir. - 14 adet uydusu vardır. - Zehirli gazlardan oluşan bir atmosferi vardır.


Bu tablodaki bilgilerden hareketle,

- I. Gezegenlerden halkası olan yalnızca Satürn'dür.
- II. En küçük gezegen Merkür, en büyük gezegen Jüpiter'dir.
- III. Dünya'nın ikizi olarak bilinen Venüs, Dünya'nın aksine ters yönde dönen gezegenlerden biridir.
- IV. En sıcak gezegen Venüs, en soğuk gezegen ise Uranüs'tür.
- V. Kızıl Gezegen olarak bilinen Mars, en çok uzay aracının gönderildiği gezegendir.

yargılarından hangilerine ulaşamaz?

- A) I ve III B) II ve IV C) I, III ve IV D) III, IV ve V

19.



Dünyada ilk kumaş ve dokuma teknikleri Mezopotamya bölgesinde gelişmiştir. Bugün pek çok dilde kullanılan tekstil terimleri o dönemden kalmıştır. Makrame, Muslin ve Damasco (Şam ilinin eski adı-Şam işi), Muslin (Musul ilinin eski adı - Musul işi) vb. Perde de ilk Mezopotamya'da kullanılmıştır. İlerleyen zamanlarda eski Mısır'da da perde kullanımı yaygınlaşmıştır. Antik Yunan ve Roma dönemlerinde tapınakların iç mekan dekorasyonlarında kullanılmıştır. Üzeri baskılı kumaşlar daha çok tercih edilmiştir. Tarihsel kaynaklara göre pencere perdesini ilk kez Latinler kullanmıştır. Ortaçağ'da pencereler çok küçük, genellikle tahta kapaklar kullanılırdı. Günümüzde kullanılan Vual sözcüğü büyük tören alanlarında gösterilere gelen soylu Romalıları güneşten korumak içindir. Velum adlı perde sisteminden gelmektedir. VI. Yüzyılda Bizans ve Roma'da iplik üretimi çok büyük boyutlara ulaşmıştır. Bizans ipek dokumaları İstanbul ve Corint'te bulunan tezgahlarda dokunmuştur. Bu süreçte desen ve kompozisyon açısından son derece zengin kumaşlar üretilmiştir. Bugün kullandığımız stor perde, bu sürecin ürünlerinden biridir. Perdeler, tarihin bazı dönemlerinde Ortaçağ'da vs. aynı zamanda mekan ısı düzenini sağlamakta kullanılıyor. Lucca ve Venedik'te çok kaliteli ipekler üretilmiştir. Soylu ve asiller yün dokuma ipekli perdeler kullanmaktaydı. Nüfusun artmasıyla birlikte yoğunlaşan mimari yapılaşmaya bağlı olarak güneş ışığından faydalanma ihtiyacı doğmuştur. Kalın perdenin yanında tül perdelerin kullanımını da bu yüzden gündeme getirmiştir. Günümüzde renkle, iplik kalınlığıyla ve dokuyla oynayarak çok çeşitli tül perdeler üretilmektedir.

Metinden yola çıkılarak aşağıdakilerden hangisine ulaşamaz?

- A) Pencere perdesi ilk olarak Latinler tarafından kullanılmıştır.
- B) Perdeler farklı amaçlar için kullanılmıştır.
- C) Tül perdeler güneş ışığından faydalanmak için bulunmuştur.
- D) Lucca ve Venedik'te tüm evlerde yün dokuma ipekli perdeler kullanılmıştır.

20. Elif, Safa, Zeynep ve Musa BOM oyununu oynamak istemektedir. Oyun şu şekilde oynanmaktadır: Cümlelerin yazılı olduğu kâğıtlar katlanıp ortaya atılır. Her oyuncu bu kâğıtlardan 4 tanesini seçer ve açtığı kâğıtları saklı tutar. Sırayla elindeki kâğıtlardan birini yanındakine verir. Bu oyundaki amaç aynı anlamı ifade eden 4 cümleyi (öznel, nesnel, sebep-sonuç, amaç-sonuç) bir araya getirmektir. Oyun bu şekilde döner ve aynı anlamı ifade eden 4 cümleyi biriktiren kişi BOOOOMMM diye bağırır ve elini ortaya koyar.

Bu bilgiden hareketle aynı anlamı ifade eden cümleleri biriktirebilen kişinin elindeki kâğıtlar aşağıdakilerin hangisinde doğru olarak verilmiştir?

A)

ELİF

Karadeniz’de yağış bol olduğundan ormanlık alan da fazladır.
Gününün büyük bölümünü temizliğe ve yemeğe ayırdığı için kendine ayıracak vakti olmuyordu.
İlaçları aksatması yüzünden hastalığı yeniden nüks etti.
Kahramanlarını halkın içinden seçtiği için romanları fazlasıyla ilgi görüyordu.

B)

MUSA

Sıkça yer verdiği söz sanatları şiirini anlamayı güçleştirmiş.
Reşat Nuri, Halit Ziya’nın kitaplarını okuduktan sonra yazar olmaya yöneldiğini söyler.
Sanatçı olmak için tüm sanat etkinliklerini takip ediyorum.
Bu hastalığa çare bulmak için diyar diyar gezdi.

C)

ZEYNEP

Toplum olarak edebiyata pek ilgi duymuyoruz.
Peyami Safa’nın en sevilen kitabıdır Fatih Harbiye.
Orhan Veli’nin ilk şiirleri 1936 yılında Varlık dergisinde yayımlandı.
Karadeniz ve Akdeniz’de dağlar kıyıya paralel uzanır.

D)

SAFA

İntibah, ilk edebi roman olma özelliğini taşır.
Şimdiye kadar izlediğim en kötü film bu.
Gökyüzünde kuşlar gibi uçmak için pilot olmuştu.
Yeni maden sahaları bulmak için yapıyor bunca çalışma.



8. SINIF SES DENEME 1-2-3
(1. Dönem Tekrar Denemeleri)

Ses Deneme 2

T.C. İNKILAP TARİHİ VE ATATÜRKÇÜLÜK TESTİ

◆ Bu testte 10 soru vardır. ◆ Cevaplarınızı, cevap kâğıdına işaretleyiniz.

1.

Mustafa Kemal sadece yerli yazar ve düşünürlerden etkilenmemiş aynı zamanda eserleriyle yaşadığı döneme damga vurmuş yabancı yazarların fikirlerinden de istifade etmiştir. Özellikle Fransız İhtilali'ne zemin hazırlayan Montesquieu ve J. J. Rousseau'nun fikirleri Mustafa Kemal'in fikir hayatına etki etmiştir. Mustafa Kemal'in bu düşünürlerden etkilendiğinin kanıtı ise "Egemenlik kayıtsız şartsız milletindir." sözü olarak görülür.

Verilen bilgiler dikkate alındığında Fransız yazarların Mustafa Kemal'i aşağıdaki hangi alanda etkilediği söylenebilir?

- A) Diplomasi B) Siyasi C) Askeri D) Hukuki



2. Tabloda I. Dünya Savaşı'nda Osmanlı Devleti'nin mücadele ettiği bazı cephelere yer verilmiştir.

Çanakkale Cephesi	İngiltere ve Fransa, Boğazlar üzerinden İstanbul'u alarak Osmanlı Devleti'ni savaş dışı bırakmak ve zor durumda olan Rusya'ya yardım götürmek istiyorlardı. Önce Boğaz'ı denizden geçmeyi deneyen İtilaf Devletleri başarılı olamadılar. Bu başarısızlık üzerine Gelibolu Yarımadası üzerinden karadan İstanbul'a ulaşmayı denediler. Fakat Mustafa Kemal; Arıburnu, Conkbayırı, Anafartalar bölgelerinde başarılı mücadeleler gerçekleştirdi. Bu başarılı mücadeleler karşısında İngilizler, 8-9 Ocak 1916'da Gelibolu Yarımadası'nı boşaltmak zorunda kaldılar.
Irak Cephesi	İngilizler, Musul ve Kerkük gibi önemli petrol bölgelerini ele geçirmek istiyordu. Bu amaçla İngiliz birlikleri Basra Körfezi'ne asker çıkararak Bağdat'a doğru ilerlediler. Bu ilerleyişleri sırasında Kut'ül Amare bölgesinde Halil Paşa komutasındaki Türk birliklerine yenildiler.

Verilen bilgilere göre cephelerin ortak özellikleriyle ilgili;

- I. Osmanlı Devleti, İngilizlerle mücadele etmiştir.
- II. Mustafa Kemal, başarılı mücadeleler gerçekleştirmiştir.
- III. Osmanlı Ordusu, işgalci devletleri durdurmayı başarmıştır.
- IV. İtilaf Devletleri, Osmanlı Devleti'nin yer altı kaynaklarına göz dikmiştir.

yargılarından hangilerine ulaşılabilir?

- A) I ve III B) II ve IV C) I, II ve III D) I, III ve IV